

6 апреля 2020 г.

9 класс

ТЕМА: Решение варианта ОГЭ по математике

Решить первую часть 11 варианта книги «ОГЭ по математике» автор Яценко

Если возникли трудности при решении заданий воспользоваться видео по ссылке <https://www.youtube.com/watch?v=AgANRuWuhV4>

Домашнее задание: решить первую часть 12 варианта.

Напоминаю критерий оценки:

8-14 баллов оценка «3»

15-21 балл оценка «4»

22 и более оценка «5»

ВАРИАНТ 11

Часть 1

Ответами к заданиям 1–20 являются число или последовательность цифр, которые следует записать в БЛАНК ОТВЕТОВ № 1 справа от номера соответствующего задания, начиная с первой клеточки. Если ответом является последовательность цифр, то запишите её без пробелов, запятых и других дополнительных символов. Каждый символ пишите в отдельной клеточке в соответствии с приведёнными в бланке образцами.

Прочитайте внимательно текст и выполните задания 1–5.

Хозяин дачного участка строит баню с парным отделением. Размеры парного отделения: длина 3,5 м, ширина 2 м, высота 2,1 м. Для разогрева парного помещения можно использовать электрическую или дровяную печь. Три возможных варианта даны в таблице.

Печь	Тип	Отапливаемый объём, куб. м	Масса, кг	Цена, руб.
Килиманджаро	дровяная	8–12	40	19000
Огонёк	дровяная	10–16	48	21000
Ока	электрическая	9–15	15	16000

Для установки дровяной печи дополнительных затрат не потребуется. Установка электрической печи потребует подведение специального кабеля, что обойдётся в 8000 руб. Кроме того, хозяин подсчитал, что за год электрическая печь израсходует 2400 киловатт-часов электроэнергии по 4 руб. за 1 киловатт-час, а дровяная печь за год израсходует 2 куб. м дров, которые обойдутся по 1600 руб. за 1 куб. м.

1. Найдите объём парного отделения строящейся бани (в куб. м).

Ответ: _____

2. На сколько рублей дровяная печь, подходящая по отопляемому объёму парного отделения, обойдётся дешевле электрической с учётом установки?

Ответ: _____

3. На сколько рублей эксплуатация дровяной печи, которая подходит по отопляемому объёму парного отделения, обойдётся дешевле эксплуатации электрической в течение года?

Ответ: _____

4. Доставка печи из магазина до участка стоит 600 рублей. При покупке печи ценой выше 20000 рублей магазин предлагает скидку 5% на товар и 40% на доставку. Сколько будет стоить покупка печи «Огонёк» вместе с доставкой на этих условиях?

Ответ: _____

5. Хозяин выбрал дровяную печь. Чертёж печи показан на рис. 2. Размеры указаны в см.




Рис. 1

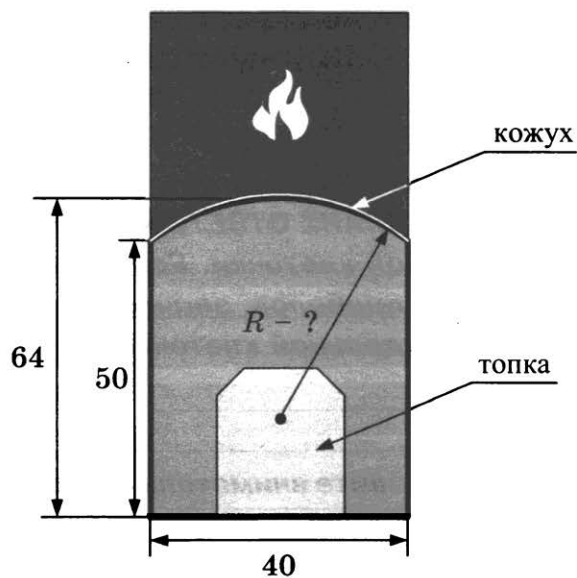


Рис. 2

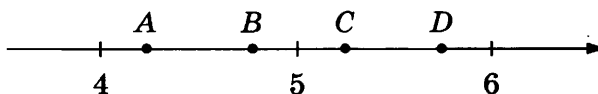
Печь снабжена кожухом вокруг дверцы топки. Верхняя часть кожуха выполнена в виде арки, приваренной к передней стенке по дуге окружности (см. рис.). Для установки печки хозяину понадобилось узнать радиус закругления арки R . Размеры кожуха показаны на рисунке. Найдите радиус в сантиметрах; ответ округлите до десятых.

Ответ: _____

6. Найдите значение выражения $6,8 - 11 \cdot (-6,1)$.

Ответ: _____

7. На координатной прямой отмечены точки A, B, C и D .



Одна из них соответствует числу $\frac{100}{21}$. Какая это точка?

- 1) точка A 2) точка B 3) точка C 4) точка D

Ответ: .

8. Сколько целых чисел расположено между $3\sqrt{7}$ и $7\sqrt{3}$?

Ответ: _____

9. Найдите корень уравнения $\frac{6}{x+8} = -\frac{3}{4}$.

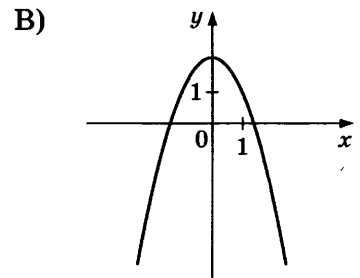
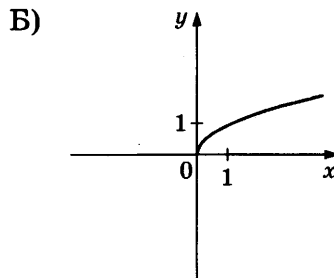
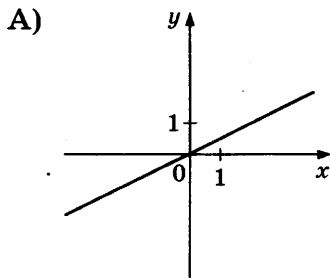
Ответ: _____

10. За круглый стол на 11 стульев в случайном порядке рассаживаются 9 мальчиков и 2 девочки. Найдите вероятность того, что девочки окажутся на соседних местах.

Ответ: _____

11. Установите соответствие между графиками функций и формулами, которые их задают.

ГРАФИКИ



ФОРМУЛЫ

1) $y = \frac{1}{2}x$

2) $y = 2 - x^2$

3) $y = \sqrt{x}$

В таблице под каждой буквой укажите соответствующий номер.

Ответ:

А	Б	В

12. Дана арифметическая прогрессия (a_n) , в которой

$$a_9 = -11,5, a_{24} = -22.$$

Найдите разность прогрессии.

Ответ: _____

13. Найдите значение выражения $\frac{8}{x} - \frac{4}{5x}$ при $x = 1,6$.

Ответ: _____

14. Высота деревянного стеллажа для книг равна $h = (a + b)n + a$ миллиметров, где a — толщина одной доски (в мм), b — высота одной полки (в миллиметрах), n — число таких полок. Найдите высоту книжного стеллажа из 5 полок, если $a = 26$ мм, $b = 330$ мм. Ответ выразите в миллиметрах.

Ответ: _____

15. Укажите неравенство, которое не имеет решений.

1) $x^2 - 3x - 11 < 0$

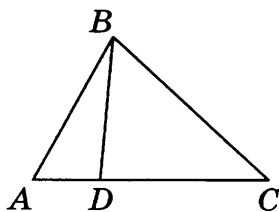
3) $x^2 - 3x + 11 > 0$

2) $x^2 - 3x + 11 < 0$

4) $x^2 - 3x - 11 > 0$

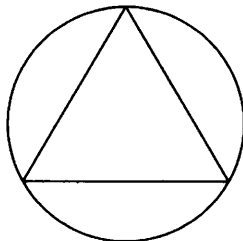
Ответ: .

16. На стороне AC треугольника ABC отмечена точка D так, что $AD = 2$, $DC = 13$. Площадь треугольника ABC равна 75 . Найдите площадь треугольника ABD .



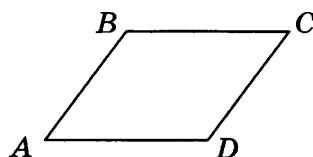
Ответ: _____

17. Сторона равностороннего треугольника равна $12\sqrt{3}$. Найдите радиус окружности, описанной около этого треугольника.



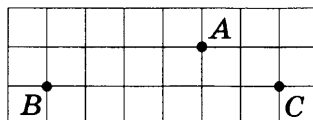
Ответ: _____

18. В параллелограмме $ABCD$ угол A равен 61° . Найдите величину угла D . Ответ дайте в градусах.



Ответ: _____

19. На клетчатой бумаге с размером клетки 1×1 отмечены три точки: A , B и C . Найдите расстояние от точки A до прямой BC .



Ответ: _____

20. Какое из следующих утверждений верно?

- 1) Боковые стороны любой трапеции равны.
- 2) Площадь ромба равна произведению двух его смежных сторон на синус угла между ними.
- 3) Всякий равнобедренный треугольник является остроугольным.

В ответ запишите номер выбранного утверждения.

Ответ: _____

Не забудьте перенести все ответы в бланк ответов № 1 в соответствии с инструкцией по выполнению работы.

Проверьте, чтобы каждый ответ был записан в строке с номером соответствующего задания.

Часть 2

При выполнении заданий 21–26 используйте БЛАНК ОТВЕТОВ № 2. Сначала укажите номер задания, а затем запишите его решение и ответ. Пишите чётко и разборчиво.

21. Решите систему уравнений

$$\begin{cases} x^2 + y^2 = 65, \\ xy = 8. \end{cases}$$

22. Поезд, двигаясь равномерно со скоростью 141 км/ч, проезжает мимо пешехода, идущего в том же направлении по платформе со скоростью 6 км/ч, за 12 секунд. Найдите длину поезда в метрах.

23. Постройте график функции

$$y = x|x| - |x| - 6x.$$

Определите, при каких значениях m прямая $y = m$ имеет с графиком ровно две общие точки.

24. Точка H является основанием высоты, проведённой из вершины прямого угла B треугольника ABC к гипотенузе AC . Найдите AB , если $AH = 6$, $AC = 24$.

25. Известно, что около четырёхугольника $ABCD$ можно описать окружность и что продолжения сторон AB и CD четырёхугольника пересекаются в точке M . Докажите, что треугольники MBC и MDA подобны.

26. Найдите площадь трапеции, диагонали которой равны 8 и 6, а средняя линия равна 5.

Проверьте, чтобы каждый ответ был записан рядом с номером соответствующего задания.

ВАРИАНТ 12

Часть 1

Ответами к заданиям 1–20 являются число или последовательность цифр, которые следует записать в БЛАНК ОТВЕТОВ № 1 справа от номера соответствующего задания, начиная с первой клеточки. Если ответом является последовательность цифр, то запишите её без пробелов, запятых и других дополнительных символов. Каждый символ пишите в отдельной клеточке в соответствии с приведёнными в бланке образцами.

Прочитайте внимательно текст и выполните задания 1–5.

Хозяин дачного участка строит баню с парным отделением. Размеры парного отделения: длина 3 м, ширина 2,6 м, высота 2,2 м. Для разогрева парного помещения можно использовать электрическую или дровяную печь. Три возможных варианта даны в таблице.

Печь	Тип	Отапливаемый объём, куб. м	Масса, кг	Цена, руб.
Орион	дровяная	8–18	72	15000
Огонёк	дровяная	6–16	85	23000
Плутон	электрическая	14–20	25	18000

Для установки дровяной печи дополнительных затрат не потребуется. Установка электрической печи потребует подведение специального кабеля, что обойдётся в 6000 руб. Кроме того, хозяин подсчитал, что за год электрическая печь израсходует 3100 киловатт-часов электроэнергии по 4 руб. за 1 киловатт-час, а дровяная печь за год израсходует 3 куб. м дров, которые обойдутся по 1500 руб. за 1 куб. м.

1. Найдите объём парного отделения строящейся бани (в куб. м).

Ответ: _____

2. На сколько рублей дровяная печь, подходящая по отапливаемому объёму парного отделения, обойдётся дешевле электрической с учётом установки?

Ответ: _____

3. На сколько рублей эксплуатация дровяной печи, которая подходит по отапливаемому объёму парного отделения, обойдётся дешевле эксплуатации электрической в течение года?

Ответ: _____

4. Доставка печи из магазина до участка стоит 800 рублей. При покупке печи ценой выше 20000 рублей магазин предлагает скидку 5% на товар и 20% на доставку. Сколько будет стоить покупка печи «Огонёк» вместе с доставкой на этих условиях?

Ответ: _____

5. Хозяин выбрал дровяную печь. Чертёж печи показан на рис. 2. Размеры указаны в см.



Рис. 1

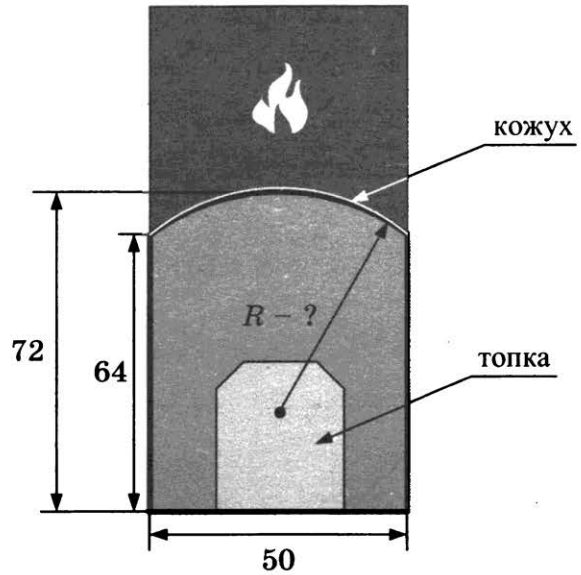


Рис. 2

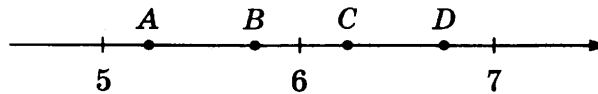
Печь снабжена кожухом вокруг дверцы топки. Верхняя часть кожуха выполнена в виде арки, приваренной к передней стенке по дуге окружности (см. рис.). Для установки печки хозяину понадобилось узнать радиус закругления арки R . Размеры кожуха показаны на рисунке. Найдите радиус в сантиметрах; ответ округлите до десятых.

Ответ: _____

6. Найдите значение выражения $-7 \cdot (-4,7) - 6,8$.

Ответ: _____

7. На координатной прямой отмечены точки A, B, C и D .



Одна из них соответствует числу $\frac{63}{11}$. Какая это точка?

- | | |
|--------------|--------------|
| 1) точка A | 3) точка C |
| 2) точка B | 4) точка D |

Ответ: .

8. Сколько целых чисел расположено между $3\sqrt{15}$ и $5\sqrt{6}$?

Ответ: _____

9. Найдите корень уравнения $\frac{4}{x-4} = -5$.

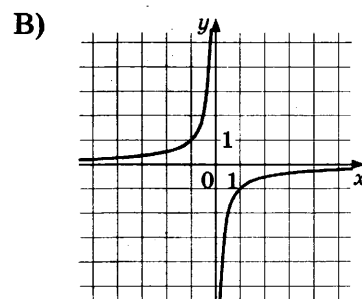
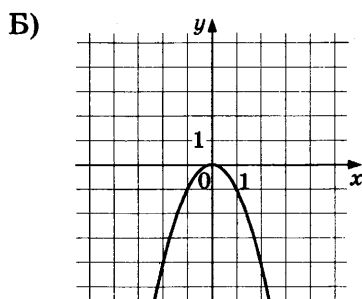
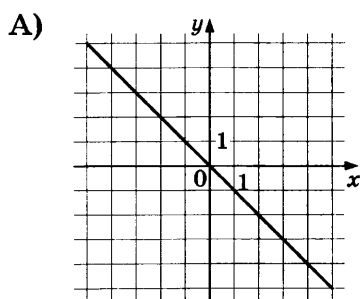
Ответ: _____

10. За круглый стол на 21 стул в случайном порядке рассаживаются 19 мальчиков и 2 девочки. Найдите вероятность того, что девочки окажутся на соседних местах.

Ответ: _____

11. Установите соответствие между графиками функций и формулами, которые их задают.

ГРАФИКИ



ФОРМУЛЫ

1) $y = -x^2$

2) $y = -x$

3) $y = -\frac{1}{x}$

В таблице под каждой буквой укажите соответствующий номер.

Ответ:

А	Б	В

12. Дана арифметическая прогрессия (a_n) , в которой

$$a_9 = -22,2, a_{23} = -41,8.$$

Найдите разность прогрессии.

Ответ: _____

13. Найдите значение выражения $\frac{6}{x} - \frac{3}{2x}$ при $x = -1,8$.

Ответ: _____

14. Высота деревянного стеллажа для книг равна $h = (a + b)n + a$ миллиметров, где a — толщина одной доски (в мм), b — высота одной полки (в миллиметрах), n — число таких полок. Найдите высоту книжного стеллажа из 4 полок, если $a = 19$ мм, $b = 330$ мм. Ответ выразите в миллиметрах.

Ответ: _____

15. Укажите неравенство, которое не имеет решений.

1) $x^2 + 6x + 12 > 0$

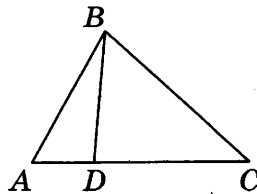
3) $x^2 + 6x - 12 < 0$

2) $x^2 + 6x + 12 < 0$

4) $x^2 + 6x - 12 > 0$

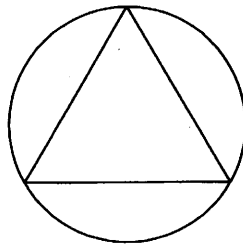
Ответ: .

16. На стороне AC треугольника ABC отмечена точка D так, что $AD = 2$, $DC = 7$. Площадь треугольника ABC равна 27. Найдите площадь треугольника BCD .



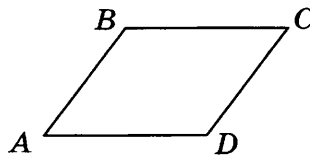
Ответ: _____

17. Сторона равностороннего треугольника равна $16\sqrt{3}$. Найдите радиус окружности, описанной около этого треугольника.




Ответ: _____

18. В параллелограмме $ABCD$ угол B равен 102° . Найдите величину угла C . Ответ дайте в градусах.



Ответ: _____

19. На клетчатой бумаге с размером клетки 1×1 отмечены три точки: A , B и C . Найдите расстояние от точки A до прямой BC .



Ответ: _____

20. Какие из следующих утверждений верны?

- 1) Площадь ромба равна произведению двух его смежных сторон на синус угла между ними.
- 2) В тупоугольном треугольнике все углы тупые.
- 3) Существуют три прямые, которые проходят через одну точку.

В ответ запишите номера выбранных утверждений без пробелов, запятых и других дополнительных символов.

Ответ: _____

**Не забудьте перенести все ответы в бланк ответов № 1 в соответствии с инструкцией по выполнению работы.
Проверьте, чтобы каждый ответ был записан в строке с номером соответствующего задания.**

Часть 2

При выполнении заданий 21–26 используйте БЛАНК ОТВЕТОВ № 2. Сначала укажите номер задания, а затем запишите его решение и ответ. Пишите чётко и разборчиво.

21. Решите систему уравнений

$$\begin{cases} x^2 + y^2 = 20, \\ xy = 8. \end{cases}$$

22. Поезд, двигаясь равномерно со скоростью 93 км/ч, проезжает мимо пешехода, идущего в том же направлении по платформе со скоростью 3 км/ч, за 8 секунд. Найдите длину поезда в метрах.

23. Постройте график функции

$$y = x|x| + |x| - 5x.$$

Определите, при каких значениях m прямая $y = m$ имеет с графиком ровно две общие точки.

24. Точка H является основанием высоты, проведённой из вершины прямого угла B треугольника ABC к гипотенузе AC . Найдите AB , если $AH = 10$, $AC = 40$.
25. Известно, что около четырёхугольника $ABCD$ можно описать окружность и что продолжения сторон AD и BC четырёхугольника пересекаются в точке K . Докажите, что треугольники KAB и KCD подобны.
26. Найдите площадь трапеции, диагонали которой равны 17 и 9, а средняя линия равна 5.

Проверьте, чтобы каждый ответ был записан рядом с номером соответствующего задания.