

29 апреля
7 класс
геометрия

ТЕМА: Деление отрезка пополам. Построение перпендикулярной прямой.

Сегодня продолжим решать задачи на построение.

Прочитайте п. 46 и п. 47 стр. 62 (новый учебник)

Посмотрите видео урок и выполните

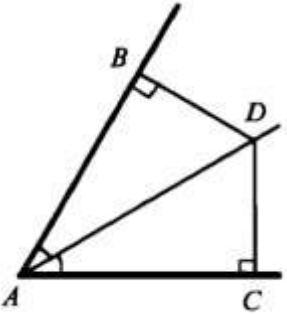
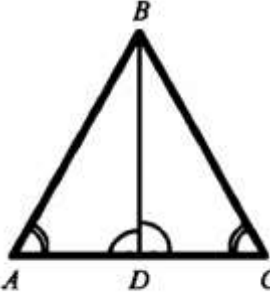
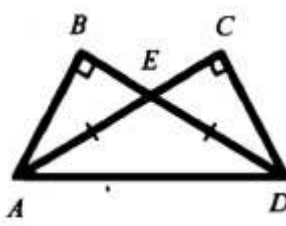
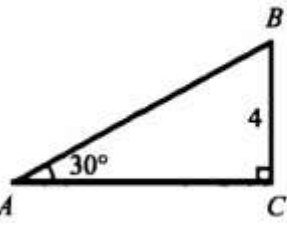
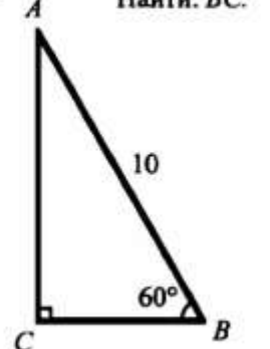
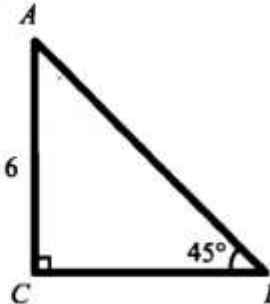
- 1) деление отрезка пополам с помощью циркуля
- 2) постройте прямую перпендикулярную данной.

https://www.youtube.com/watch?time_continue=67&v=nzxBxLEGfMU&feature=emb_logo

https://www.youtube.com/watch?time_continue=57&v=-pgA6VRUR3w&feature=emb_logo

Решите задачи на повторение «Прямоугольный треугольник»:

Найти равные треугольники (задачи 1–3).

<p>1</p> 	<p>2</p> 	<p>3</p>  <p>Дано: $AE = ED$.</p>
<p>4</p>  <p>Найти: AB.</p>	<p>5</p> <p>Найти: BC.</p> 	<p>6</p>  <p>Найти: BC.</p>

В задачах обязательно выполнить чертеж и решение.

Письменную работу отправить учителю любым доступным способом.

Домашнее задание: п. 43-46, читать, ответить устно на вопросы 10-12,

задание в интерактивной тетради <https://edu.skysmart.ru/student/mefovabaxa>