

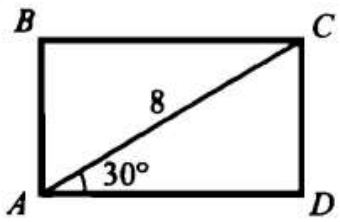
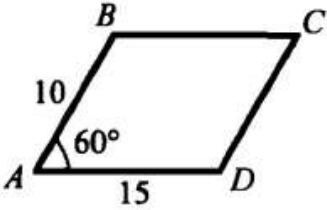
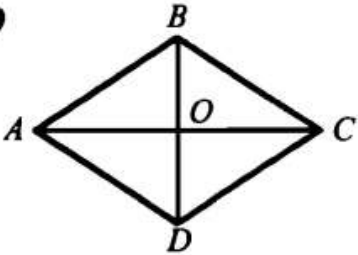
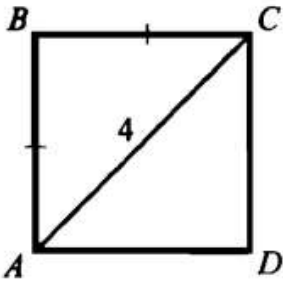
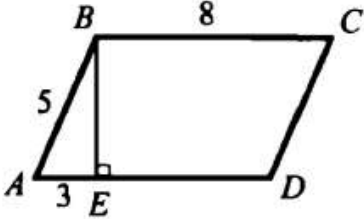
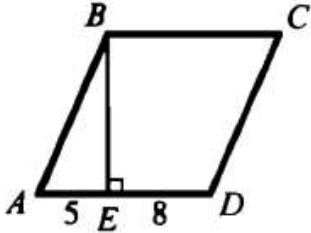
22 апреля

8 класс

геометрия

ТЕМА: Решение задач по теме «Площади фигур».

Найти площадь четырехугольника $ABCD$:

$ABCD$ — прямоугольник	$ABCD$ — параллелограмм	$ABCD$ — ромб
1 	5 	9  Дано: $AC = 8$, $BD = 5$.
2 	6 	10 

В каждой задаче обязателен чертеж и решение. Письменную работу отправить учителю любым доступным способом.

Домашнее задание: повторить формулы площади фигур.